

8. Tapaaminen

TEHTÄVÄ 21.1:

Kuuntele ohjeita tarkkaan
ja tee niiden mukaan.



TEHTÄVÄ 21.2:

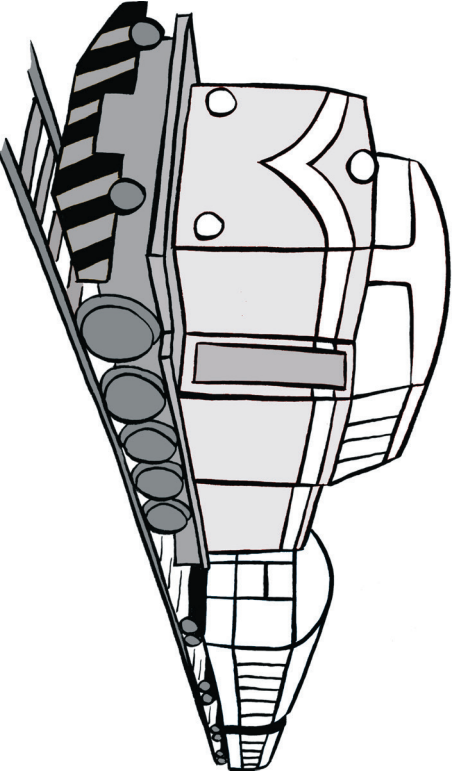
Keksi ja kirjoita kaksi ohjetta,
joiden mukaan toiset ryhmässä
pystyvät toimimaan.
Lue ohjeet ääneen
yksi kerrallaan.
Muut tekevät ohjeen mukaan.



TEHTÄVÄ 22: Mallitippiarikki

MATKALIPPU


RAIDE 1 - VAUNU 5 - PAIKKA 47
Iähtö klo 13:39



Ristøilyalus Høreulø

Matkustaja: _____
Reitti: _____

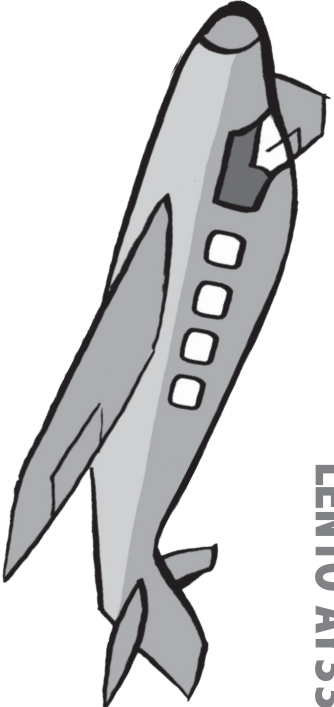
MATKALIPPU



MATKALIPPU


LENTO AY331

Matkustaja: _____
Check-in klo: _____



MATKALIPPU

Linja-auto / Kaukomatkat
EXPRESSBUS



TEHTÄVÄ 22: Aidot liput



MATKALIPPU

RAIDE 1 - VAUNU 5 - PATIKKA 47
Iähtö klo 13.39

MATKALIPPU

LENTO AY331

Matkustaja: _____
Check-in klo: _____

Risteytyksen tervetulo

Matkustaja: _____
Reitti: _____

MATKALIPPU

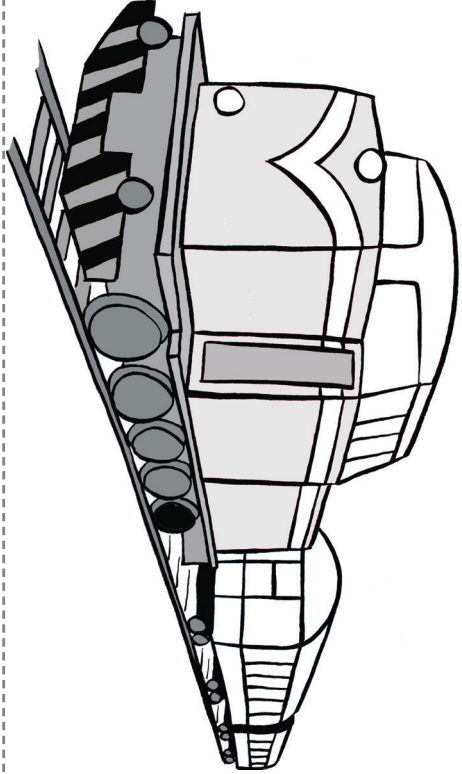
MATKALIPPU

Linja-auto / Kaukomatkat
EXPRESSBUS

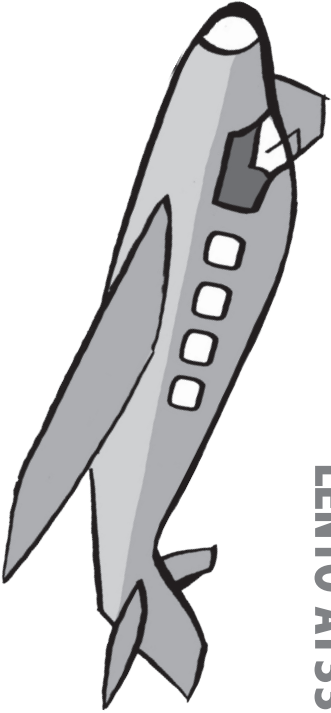
TEHTÄVÄ 22: Väärennetyt liput

MATKALIPPU

RAIDE 1 - VAUNU 5 - PAIKKA 47
Lähtö klo 13.39

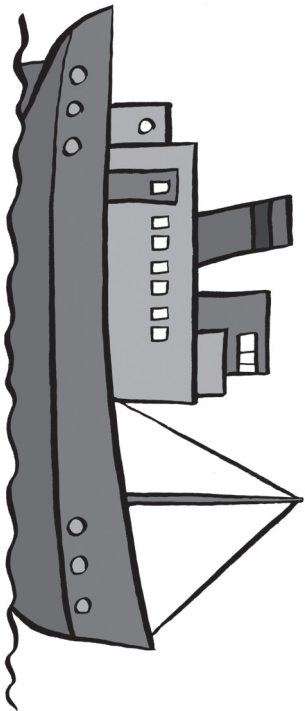


MATKALIPPU
LENTO AY331




Matkustaja: _____
Check-in klo: _____

Risteytyä Horeulä



Matkustaja: _____
Reitti: _____
MATKALIPPU

MATKALIPPU



Linja-auto / Kaukomatkat
EXPRESSBUS



TEHTÄVÄ 22:

Saat mallilippuarkin.
Lisäksi saat kuoren, jossa on
lippuja erilaisiin kulkuneuvoihin.
Joukossa on yksi väärennetty
lippu. Etsi väärennetty lippu
ja merkitse se rastilla.



TEHTÄVÄ 23.1:

Pauli on lähdössä Lontooseen.
Hän kävelee hotellista postiin
ostamaan postimerkin
ja sieltä kauppaan
hakemaan matkaeväät.
Sen jälkeen hän kävelee
rautatieasemalle.
Jokainen välimatka on 2 km.
Kuinka pitkän matkan
Pauli kulkee yhteensä?



TEHTÄVÄ 23.2:

Pauli on lähdössä Lontooseen.
Hän kävelee hotellista postiin
ostamaan postimerkin ja sieltä
kioskille hakemaan matkaeväät.
Sen jälkeen hän kävelee
kukkakauppaan.
Jokainen välimatka on 3 km.
Kuinka pitkän matkan
Pauli kulkee yhteensä?



TEHTÄVÄ 23.3:

Pauli on lähdössä Lontooseen.
Hän kävelee hotellista
puhelinkopille soittamaan
Monikalle ja sieltä kauppaan
hakemaan matkaeväät.
Sen jälkeen hän
kävelee satamaan.
Jokainen välimatka on 4 km.
Kuinka pitkän matkan
Pauli kulkee yhteensä?



TEHTÄVÄ 23.4:

Pauli on lähdössä Lontooseen.
Hän kävelee hotellista postiin
ostamaan postimerkin ja sieltä
karkkikauppaan hakemaan
matkaeväät.

Sen jälkeen hän kävelee
linja-autoasemalle.
Jokainen välimatka on 5 km.
Kuinka pitkän matkan
Pauli kulkee yhteensä?

