

7.Tapaaminen

TEHTÄVÄ 17.1
LAPSET A ja C:

Sinulla on kortissa
kaksi erilaista muotoa.

Ohjaa pariasi valitsemaan
samanlaiset muotopalat
ja järjestämään ne oikeaan
järjestykseen.



TEHTÄVÄ 17.2

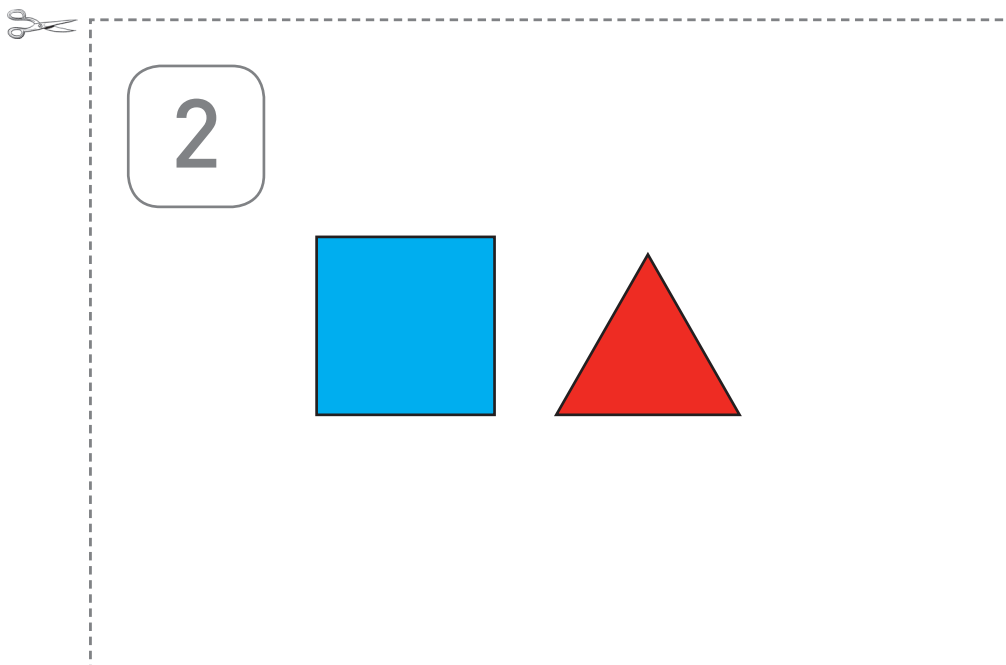
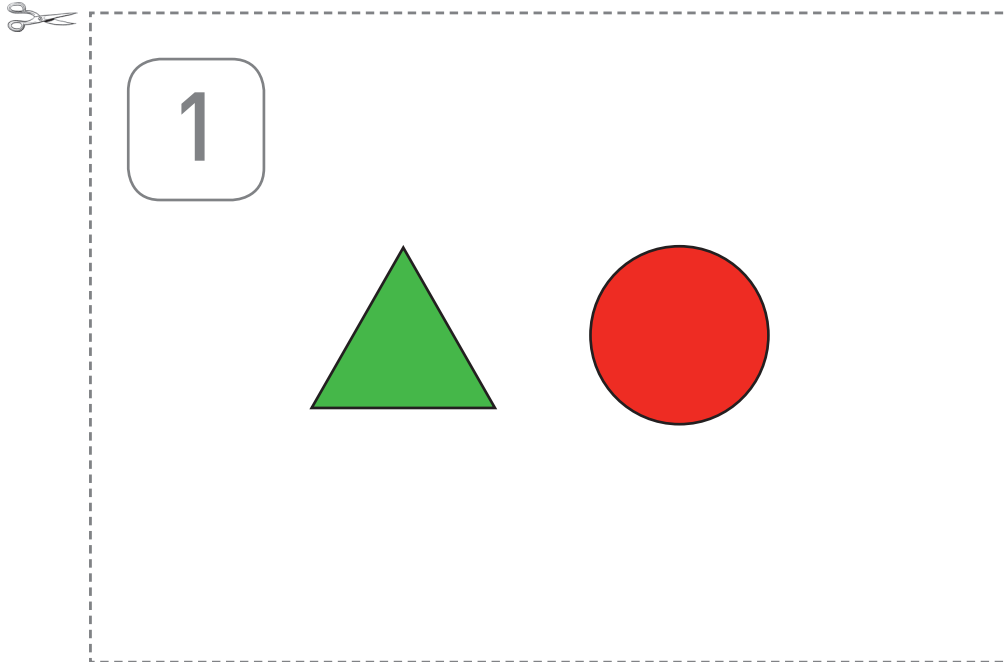
Lapset B ja D:

Kuuntele ensin
parisi antamat ohjeet.

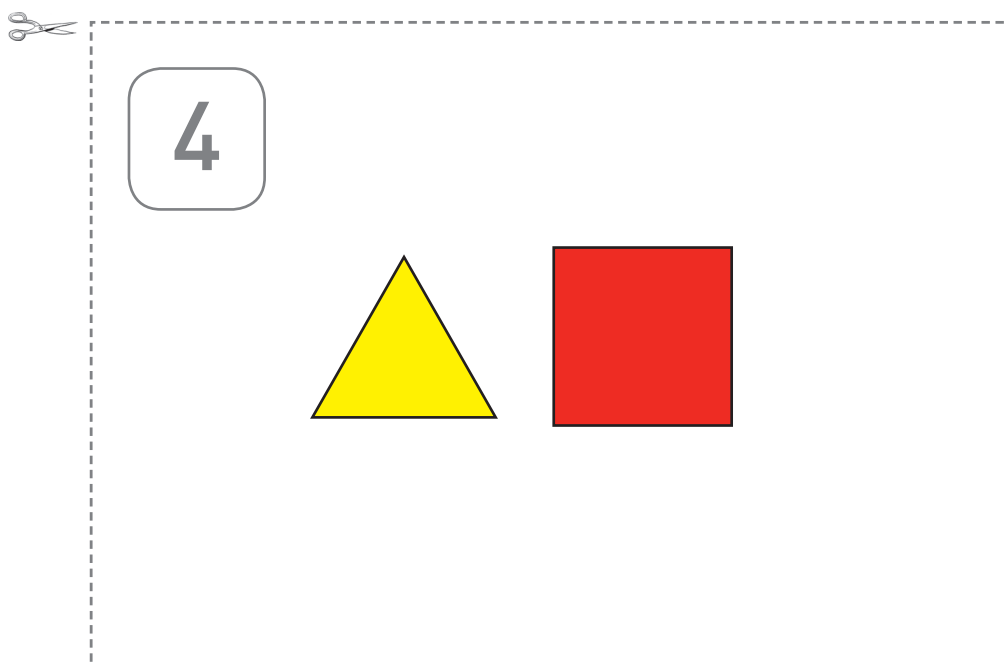
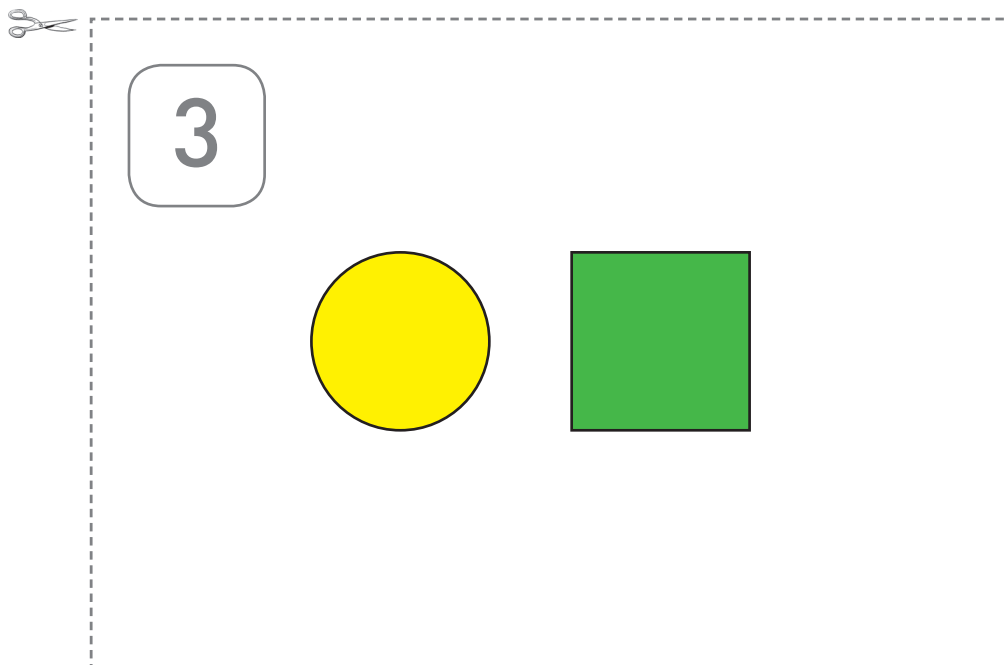
Valitse sitten oikeat muotopalat
ja järjestä ne oikeaan
järjestykseen.



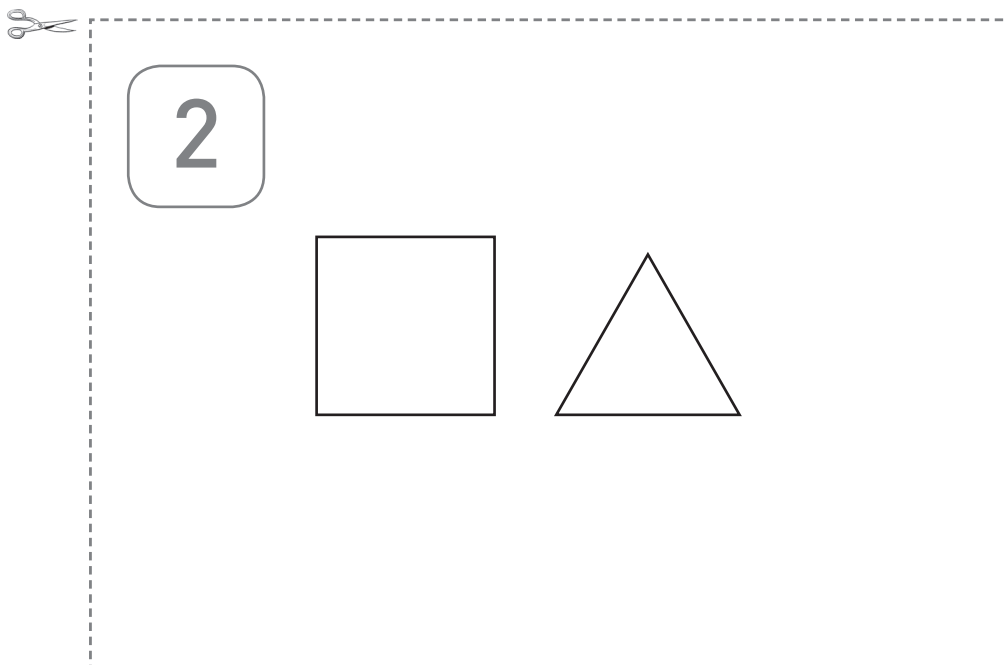
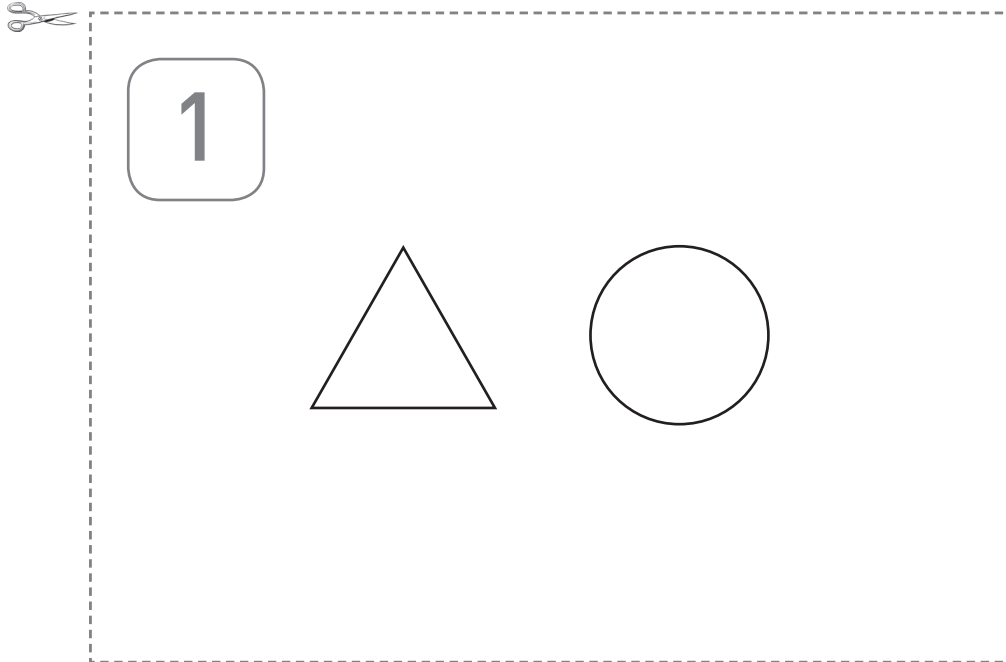
TEHTÄVÄ 17 : MUOTOKORTIT



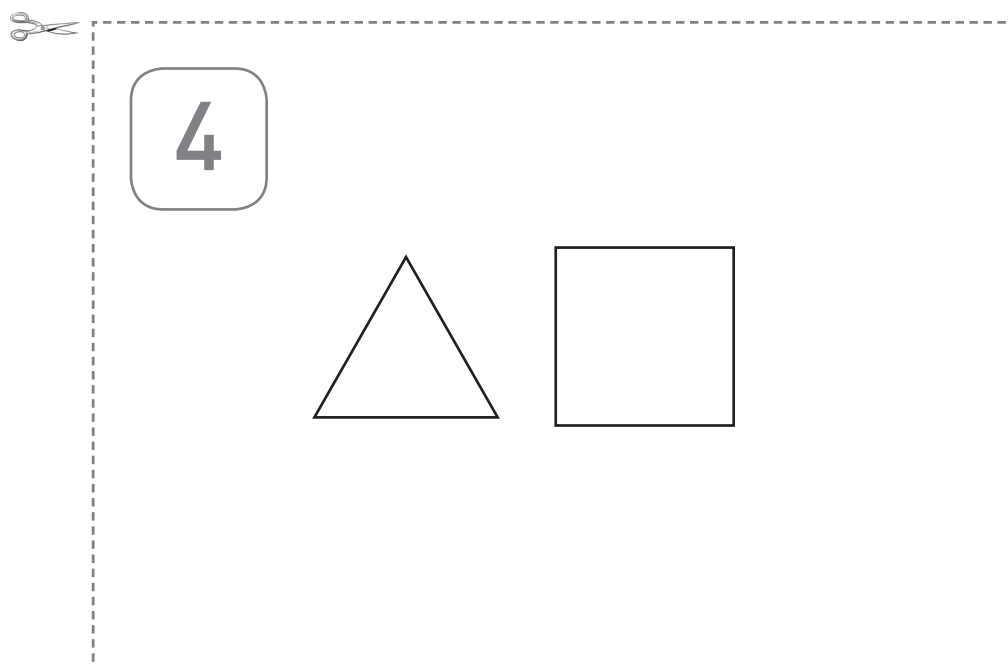
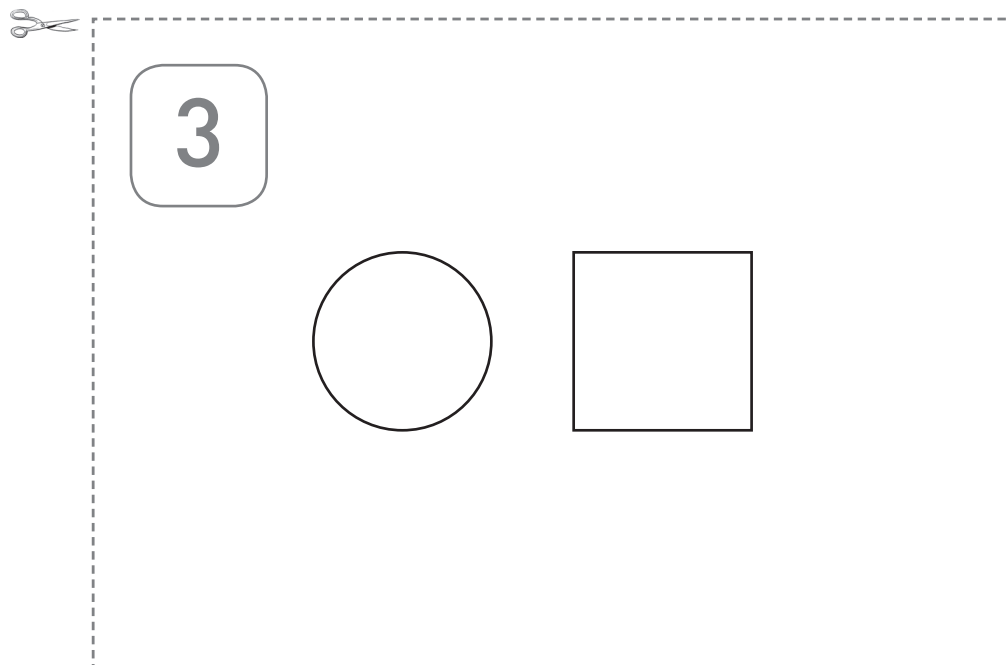
TEHTÄVÄ 17 : MUOTOKORTIT



TEHTÄVÄ 17 : MUOTOKORTIT MUSTAVALKOKOPIOKONEELLE




TEHTÄVÄ 17 : MUOTOKORTIT MUSTAVALKOKOPIOKONEELLE



TEHTÄVÄ 19, lapset B ja D:

Parisi kertoo sinulle
merkkijonon.

Etsi sama merkkijono kartastasi.
Kerro parillesi koordinaatit,
jotka liittyvät hänen
merkkijonoonsa.



TEHTÄVÄ 19, lapset A ja C:

Sinulla on Euroopan kartta ja
pieni pala Euroopan kartasta.
Palassa on merkkijono.
Kerro tietotoimistoon eli
parillesi, mikä on sinun
merkkijonosi. Parisi antaa sinulle
koordinaatit, jotta saat tietää,
missä olet kartalla.
Merkitse olinpaikkasi karttaan.

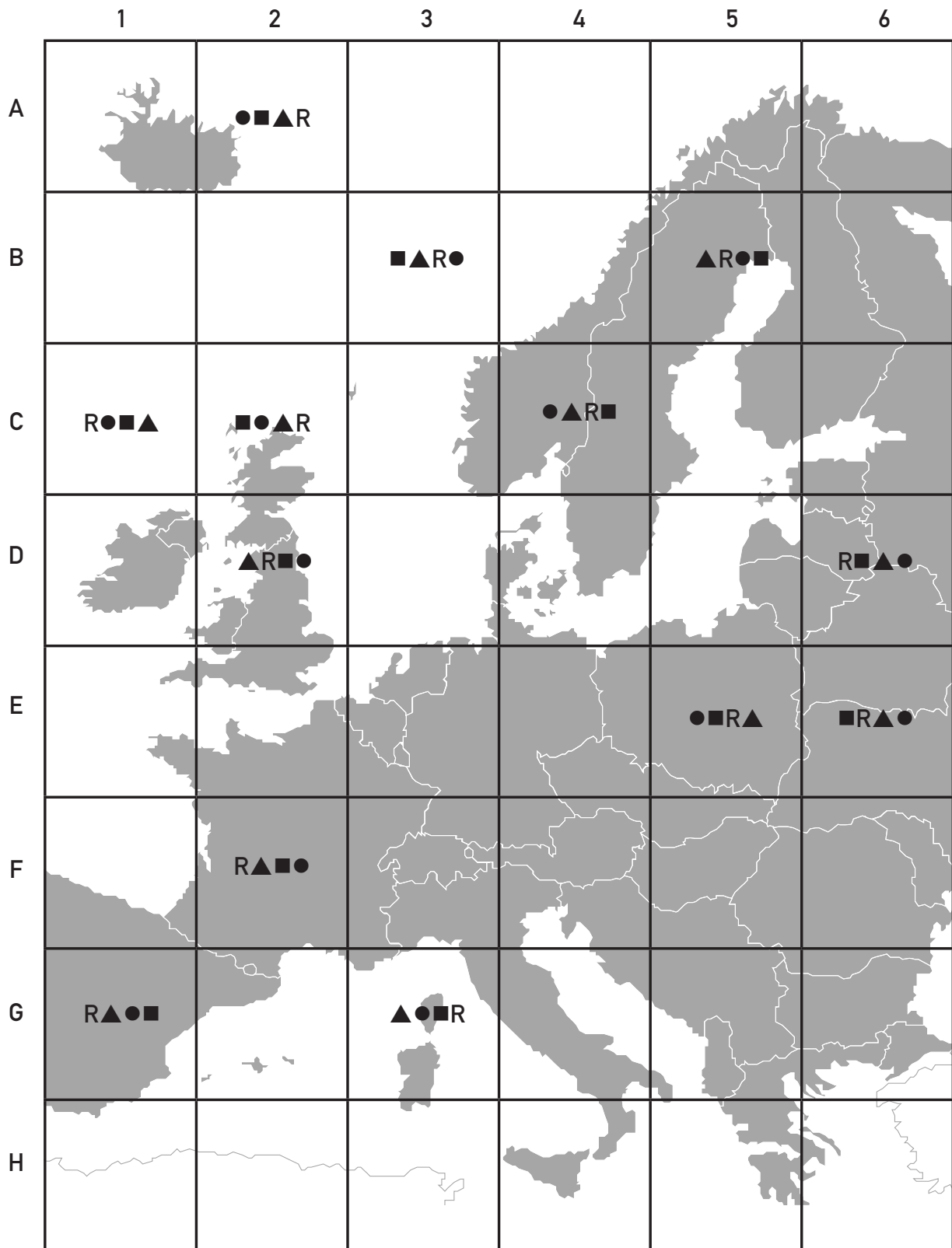


TEHTÄVÄ 19: Merkkijonokortit

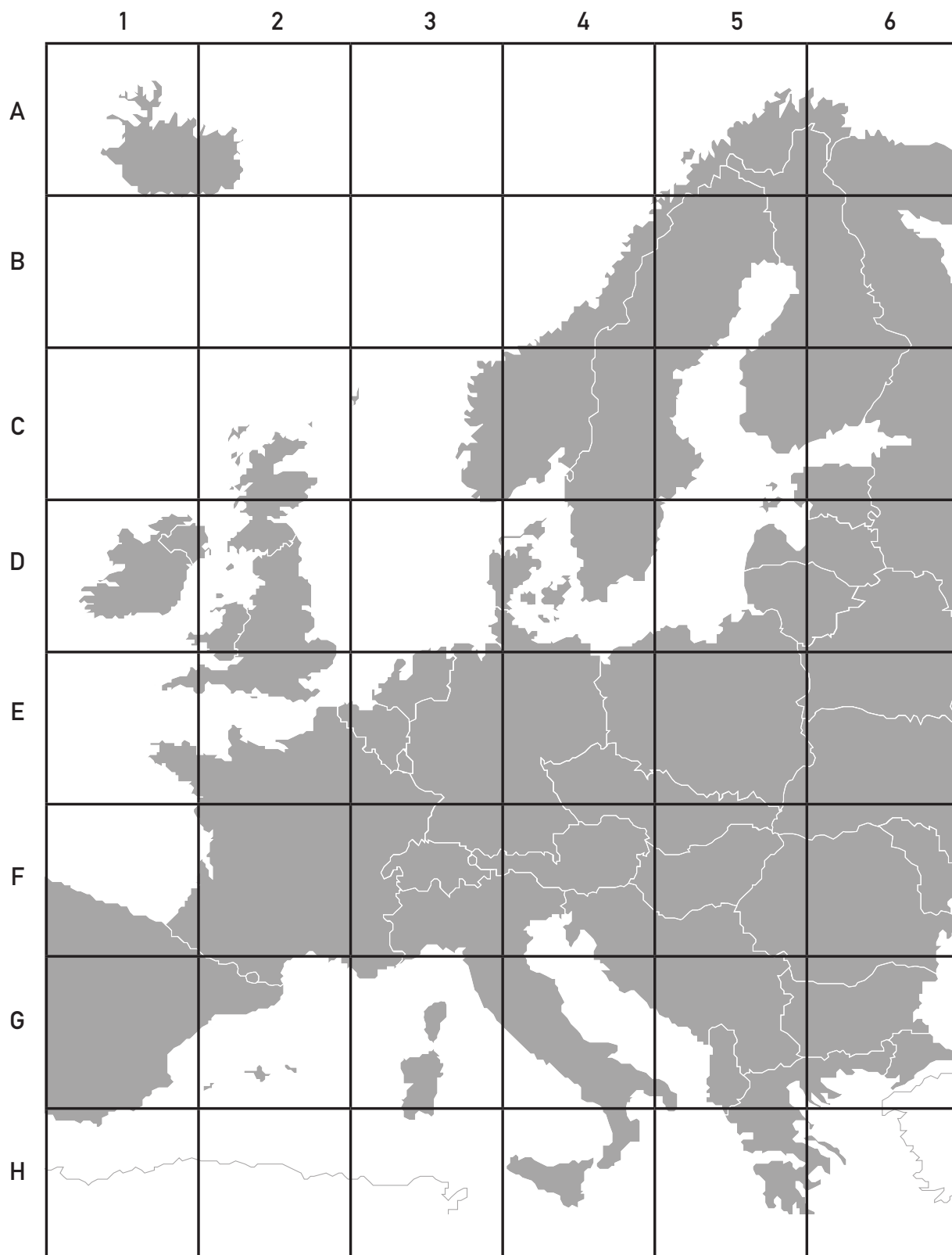


▲R●■	▲R■●	R▲●■	R▲■●
------	------	------	------

TEHTÄVÄ 19: LAPSET B JA D



TEHTÄVÄ 19: LAPSET A JA C



TEHTÄVÄ 20.1:

Pauli on Helsingissä.

Hän saa tärkeän tehtävän,
jonka vuoksi hänen täytyy
lentää Roomaan.

Roomasta Pauli
matkustaa Lontooseen.

Kuinka monta kilometriä Pauli
matkustaa yhteensä?



TEHTÄVÄ 20.2:

Pauli on Tukholmassa.

Hän saa tärkeän tehtävän,
jonka vuoksi hänen täytyy
lentää Roomaan.

Roomasta Pauli matkustaa
Helsinkiin.

Kuinka monta kilometriä Pauli
matkustaa yhteensä?



TEHTÄVÄ 20.3:

Pauli on Roomassa.
Hän saa tärkeän tehtävän,
jonka vuoksi hänen täytyy
lentää Lontooseen.
Lontoosta Pauli
matkustaa Tukholmaan.

Kuinka monta kilometriä
Pauli matkustaa yhteensä?



TEHTÄVÄ 20.4:

Pauli on Lontoossa.

Hän saa tärkeän tehtävän,
jonka vuoksi hänen täytyy
lentää Tukholmaan.
Tukholmasta Pauli
matkustaa Helsinkiin.

Kuinka monta kilometriä
Pauli matkustaa yhteensä?



TEHTÄVÄ 20, etäisyystaulukko

	Englanti: Lontoo	Suomi: Helsinki	Ruotsi: Tukholma	Italia: Rooma
Englanti: Lontoo	0 km	2 380 km	1 940 km	1 810 km
Suomi: Helsinki	2 380 km	0 km	264 km	3 070 km
Ruotsi: Tukholma	1 940 km	264 km	0 km	2 630 km
Italia: Rooma	1 810 km	3 070 km	2 630 km	0 km

